

Μαθηματικά Γ'

Αισθητοποίηση αριθμών μέχρι το 10 000

Όνομα: _____ Τάξη: _____ Ημερ. _____

Τετραψήφιοι λέγονται οι αριθμοί που έχουν 4 ψηφία π.χ. 6 987




Άσκηση 1: Γράψε τα ονόματα των πιο κάτω τετραψήφιων αριθμών.

4 567 _____
6 098 _____
8 901 _____
7 390 _____
9 345 _____
8 009 _____

Άσκηση 2: Γράψε τους αριθμούς με ψηφία.

Χίλια εξακόσια είκοσι πέντε _____
Δύο χιλιάδες εννιά _____
Πέντε χιλιάδες ενενήντα εννιά _____
Επτά χιλιάδες τετρακόσια επτά _____
Οκτώ χιλιάδες εννιακόσια ενενήντα εννιά _____
Τέσσερις χιλιάδες εξακόσια _____
Εννιά χιλιάδες εννιά _____


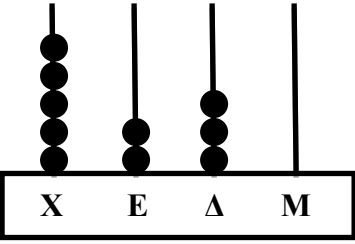
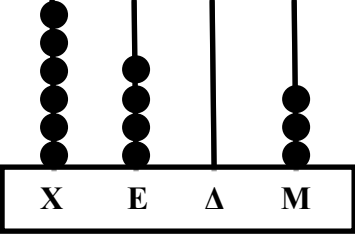
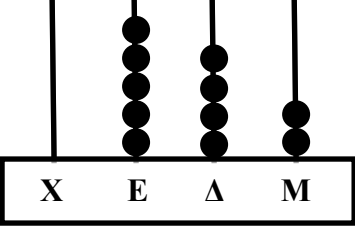
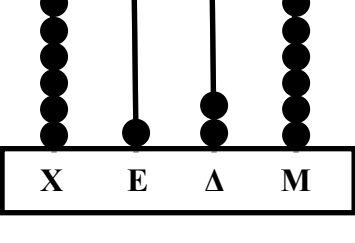
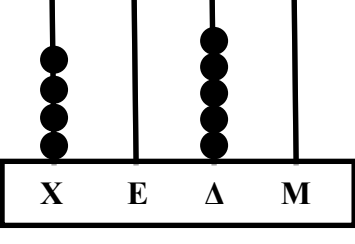


Άσκηση 3: Γράψε όπως στο παράδειγμα.

1 765 1 Χ (χιλιάδα) 7 Ε (εκατοντάδες) 6 Δ (δεκάδες) 5 Μ (μονάδες)
1000 + 700 + 60 + 5 = 1 765

9 047 _____
7 540 _____
2 507 _____
6 009 _____

Άσκηση 4: Διάβασε και γράψε τους αριθμούς.

 <p>X E Δ M</p>	4 234	Τέσσερις χιλιάδες διακόσια τριάντα τέσσερα
 <p>X E Δ M</p>		
 <p>X E Δ M</p>		
 <p>X E Δ M</p>		
 <p>X E Δ M</p>		
 <p>X E Δ M</p>		

Άσκηση 5: Ποια είναι η αξία του καθενός από τα υπογραμμισμένα ψηφία.

4 258 9 269 8 501 2 435 2 123 3 673

Άσκηση 6: Κάτω από κάθε αριθμό γράψε την αξία του ψηφίου 3.

1 357 1 023 2 437 3 098

Άσκηση 7: Κάτω από κάθε αριθμό γράψε την αξία του ψηφίου 8.

2 180 1 708 3 841 8 900




Άσκηση 8: Παρατήρησε τους αριθμούς που είναι γραμμένοι στις καρτέλες και γράψε:

982	4 625	429	8 005	2 810	9 598	5 090
-----	-------	-----	-------	-------	-------	-------

- Τους αριθμούς που είναι μεγαλύτεροι από 7 000 _____
- Τους αριθμούς που είναι μεταξύ του 3 500 και του 6 000 _____
- Βάλε σε σειρά τους πιο πάνω αριθμούς αρχίζοντας από το μεγαλύτερο

Άσκηση 9: Με τα παρακάτω ψηφία σχημάτισε πέντε τετραψήφιους αριθμούς και μετά γράψε τους στη σειρά από το μικρότερο στο μεγαλύτερο.



Άσκηση 10: Συμπλήρωσε τον αριθμό που είναι πριν και μετά.

_____	2 310	_____	_____	1 999	_____
_____	1 749	_____	_____	5 869	_____
_____	4 651	_____	_____	8 340	_____
_____	7 000	_____	_____	999	_____
_____	3 080	_____	_____	9 110	_____

Άσκηση 11: Συμπλήρωσε τα μοτίβα.

5 322	5 332	5 342	_____	_____	_____	_____	_____
6 544	6 444	6 344	_____	_____	_____	_____	_____
8 745	7 745	6 745	_____	_____	_____	_____	_____
2 050	2 100	2 150	_____	_____	_____	_____	_____
4 000	4 100	4 200	_____	_____	_____	_____	_____

Άσκηση 12: Βρες τους αριθμούς που περιγράφονται πιο κάτω, όπως στο παράδειγμα.

8 χιλιάδες 14 εκατοντάδες 8 δεκάδες $8\ 000 + 1\ 400 + 80 = 9\ 480$	9 480
4 χιλιάδες 85 δεκάδες 8 μονάδες	
36 εκατοντάδες 18 δεκάδες 3 μονάδες	
50 εκατοντάδες 7 μονάδες	
5 χιλιάδες 8 δεκάδες 25 μονάδες	
90 δεκάδες 71 μονάδες	
40 εκατοντάδες 5 μονάδες	
22 εκατοντάδες 90 δεκάδες 30 μονάδες	

